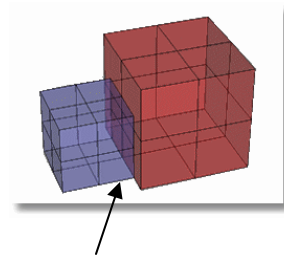


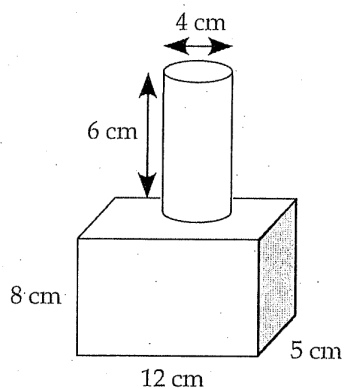
L'aire de la surface (l'aire totale) des objets composés

1. Détermine l'aire de la surface de chaque objet composé 3D.
 Suppose chaque figure est solide. Soustrais chaque chevauchement
*(l'aire couverte quand 2 objets sont composés pour faire un seul
 objet : et une partie d'un objet couvre une partie d'un autre objet –
 ils partagent la même aire de la surface).*

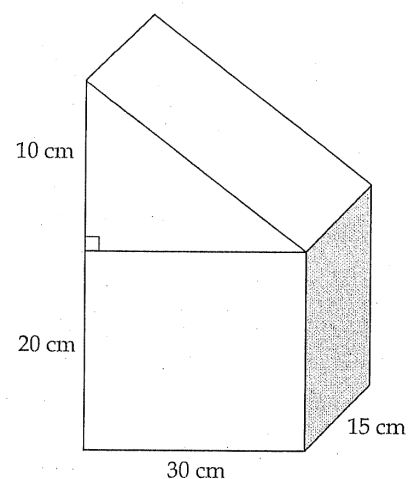


chevauchement

a)



b)



c)

